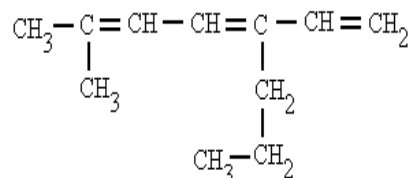
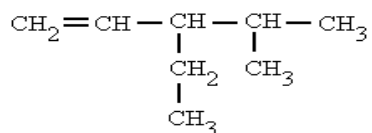
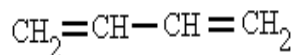
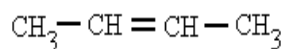
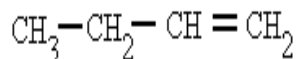
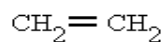




QUÍMICA GRADO 11
DOCENTE: ELVER RIVAS
TALLER DE ALQUENOS

1. Indique el nombre de los siguientes compuestos



2. Realiza las formulas químicas para los siguientes nombres

Ejercicios

- 1) Propadieno
- 2) 2-metil-1,3-butadieno
- 3) 5-metil-3-propil-1,4,6-octatrieno
- 4) 2-etil-1,3-hexadieno
- 5) 3-etil-1,5-heptadieno
- 6) 3-etil-6-metil-2-octeno
- 7) 4-metil-4-propil-2,5,7-nonatrieno
- 8) 2,3-dimetil-1,3-butadieno
- 9) 2,3,5-trimetil-1,4-octadieno
- 10) 3-propil-1,5-heptadieno